



MUNICÍPIO DA ESTÂNCIA BALNEÁRIA DE PRAIA GRANDE

Estado de São Paulo
SEDUC - Secretaria de Educação

SEMANAS 7 e 8

SALA DE AULA



Disciplina: Matemática

3º ano do Ensino Fundamental

1) VOCÊ JÁ OUVIU FALAR NO PEIXE PALHAÇO? LEIA O TEXTO E RESPONDA AS PERGUNTAS EM SEU CADERNO.

PEIXE PALHAÇO- ENCANTADOR, COLORIDO E DESAJEITADO

O COLORIDO DE SEU CORPO CHAMA A ATENÇÃO. PODE-SE DIZER QUE É UM PEIXE EXÓTICO, CUJA COR LARANJA E AS TIRAS BRANCAS OU AZULADAS, ASSIM COMO A MANEIRA DESALINHADA E DESAJEITADA DE NadAR, DÃO SENTIDO AO NOME: PEIXE-PALHAÇO. ESSES SIMPÁTICOS PEIXINHOS MEDEM CERCA DE 5 CENTÍMETROS E PESAM NO MÁXIMO, 150 GRAMAS.



Adaptado de <https://petfriends.com.br/enciclopedia/peixes/peixe-palhaco/>

A) ENCONTRE NO TEXTO O NÚMERO QUE REPRESENTA A MASSA CORPORAL(PESO) DO PEIXE PALHAÇO? _____

B) UTILIZANDO OS ALGARISMOS 1 - 5 - 0, ESCREVA TRÊS NÚMEROS DE TRÊS ALGARISMOS QUE VOCÊ PODE FORMAR ALÉM DO 150? _____

2) BRUNO, CLARA E JÉSSICA GANHOU A MESADA DO MÊS DE MARÇO.



A) CONTE O VALOR EM DINHEIRO QUE CADA CRIANÇA GANHOU E ANOTE.

BRUNO R\$ _____

CLARA R\$ _____

JÉSSICA R\$ _____

B) QUEM TEM O EQUIVALENTE A UMA NOTA DE  ? _____.

C) QUANTOS REAIS JÉSSICA TEM A MAIS DO QUE BRUNO? _____.

D) QUANTOS REAIS TEM JUNTAS CLARA E JÉSSICA? _____.

E) BRUNO TEM 19 REAIS E QUER COMPRAR UM CADERNO QUE CUSTA 30 REAIS. QUANTO AINDA FALTA PARA BRUNO CONSEGUIR COMPRAR SEU CADERNO? _____.

F) COM O INÍCIO DAS AULAS CLARA COMPROU ALGUMAS COISAS NA PAPELARIA. CLARA GASTOU 13 REAIS. QUANTOS REAIS CLARA AINDA TEM?
_____.

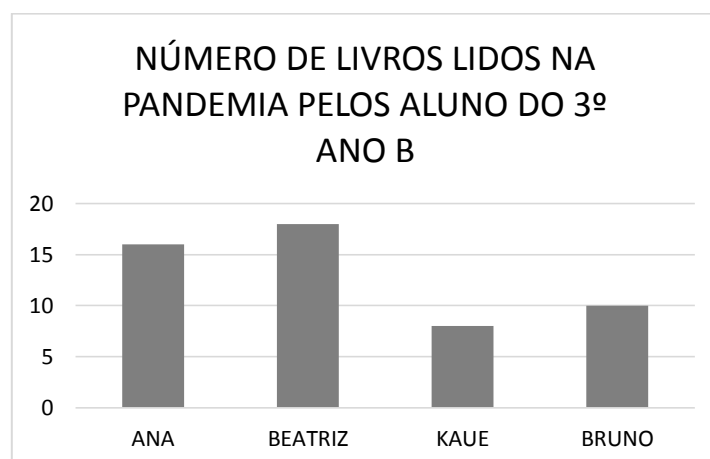
G) QUANTOS REAIS TEM BRUNO, CLARA E JÉSSICA JUNTOS? _____.

3) UM GUIA DE ZOOLOGICO DISTRIBUIU ESSAS MÁSCARAS ENTRE TRÊS CRIANÇAS VISITANTES. TODAS RECEBERAM A MESMA QUANTIDADE. VOCÊ SABE QUANTAS MÁSCARAS RECEBERAM CADA CRIANÇA?



- (A) 2 MÁSCARAS
- (B) 3 MÁSCARAS
- (C) 4 MÁSCARAS
- (D) 5 MÁSCARAS

4) OBSERVE O GRÁFICO ABAIXO ONDE MOSTRA A QUANTIDADE DE LIVROS LIDOS POR ALGUNS ALUNOS DA SALA DO 3º ANO B.



(A) QUANTOS LIVROS ANA, BEATRIZ E KAUE LERAM DURANTE O PERÍODO EM QUE NÃO FORAM A ESCOLA? _____.

(B) DOS 18 LIVROS QUE BEATRIZ LEU, 7 ERAM LIVROS DE POEMA. QUANTOS LIVROS **NÃO** ERAM LIVROS DE POEMAS? _____.

(C) KAUE E BEATRIZ LERAM JUNTOS _____ LIVROS.

(D) QUEM LEU MENOS LIVROS? _____.

(E) DOS QUATROS ALUNOS QUEM LEU MAIS LIVROS? _____.

(F) QUAL DUPLA LEU MAIS LIVROS?

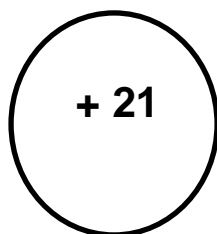
() ANA E KAUE

() BEATRIZ E BRUNO

5) MARQUE UM "X" NO NÚMERO QUE SOMADO AO NÚMERO EM DESTAQUE TENHA O RESULTADO CORRETO DA ADIÇÃO.

(A)

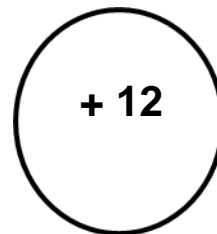
25	12	8	35
----	----	---	----



46

(B)

15	42	24	33
----	----	----	----



54

6) RESOLVA OS DESAFIOS.

A)

+ = 16

+ = 9

+ = 11

+ + = ?



B)

+ + = 30

+ + = 18

- = 2

+ + = ??



C) + + =

D) + + =

7) BRUNA ESTÁ FAZENDO A SUA LIÇÃO DE CASA. A PROFESSORA DE BRUNA ESCREVEU NA LOUSA 25 CONTAS DE ADIÇÃO E 13 CONTAS DE SUBTRAÇÃO.



A) QUANTAS CONTAS BRUNA TÊM NO TOTAL PARA FAZER? _____.

B) BRUNA JÁ FEZ 30 CONTAS. QUANTAS CONTAS AINDA FALTAM PARA BRUNA TERMINAR A LIÇÃO? _____.

8) UMA SÉRIE DA NETFLIX TEM 35 EPISÓDIOS NA PRIMEIRA TEMPORADA E 23 EPISÓDIOS NA SEGUNDA TEMPORADA.

A) QUANTOS EPISÓDIOS TEM A SÉRIE NO TOTAL? _____.



B) FOI LANÇADA A TERCEIRA TEMPORADA COM 12 EPISÓDIOS. COM QUANTOS EPISÓDIOS A SÉRIE FICOU AGORA? _____.

9) UM LEÃO, UM TIGRE E UM LOBO PESAM JUNTOS 697 QUILOS. O TIGRE PESA 268 QUILOS, O LEÃO 245 KILOS.

A) QUANTOS QUILOS PESAM O LEÃO E O TIGRE JUNTOS? _____.



B) QUAL O PESO DO LOBO? _____.

C) QUAL É O ANIMAL MAIS LEVE? _____.

D) QUAL É O ANIMAL MAIS PESADO?